




ALTIN BEYİN



KANGURU MATEMATİK ÇALIŞMA SORULARI

1. Sınıf

Ad ve Soyad :

Sınıf :

ALGILAMA TESTİ

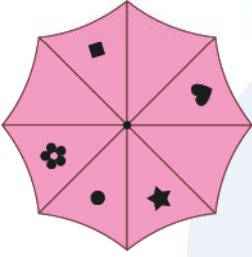
www.altinbeyin.com

1.



Yukarıda verilen şemsiyenin üstten görünümü aşağıdakilerden hangisi olabilir?

A



B




C



ALTIN BEYİN

2.



Yukarıdaki şekil aşağıdaki bloklardan hangisinin önden görünümü olabilir?


A



B



C



ALTIN BEYİN

3.



Yukarıdaki ayakkabı bağının arkadan görüntüsü aşağıdakilerden hangisidir?

A



B



C



ALTIN BEYİN

4.



Yukarıda verilen şeffaf küpün kenarları şekildeki gibi çizilmiştir.

Buna göre küpün üstten görünümü aşağıdakilerden hangisi gibi olur?

A



B



C



ALTIN BEYİN

5.



Yukarıda verilen yapının üstten görünümü aşağıdakilerden hangisi olabilir?

A



B



C



ALTIN BEYİN

6.

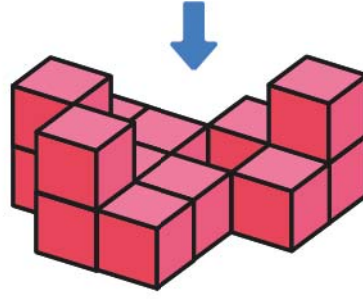


Yukarıdaki ağacın üstten görünümü aşağıdakilerden hangisi gibi olabilir?

- A
- B
- C

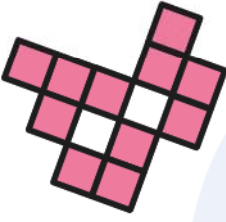
ALTIN BEYİN

7.

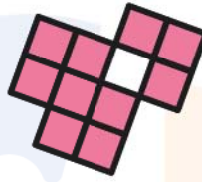


Yukarıdaki birim küplerle yapılan cismin ok yönünden görünümünü aşağıdakilerden hangisidir?


A



B




C



ALTIN BEYİN

8.



Yukarıdaki kirpilerden kaç tanesi sola bakıyor?

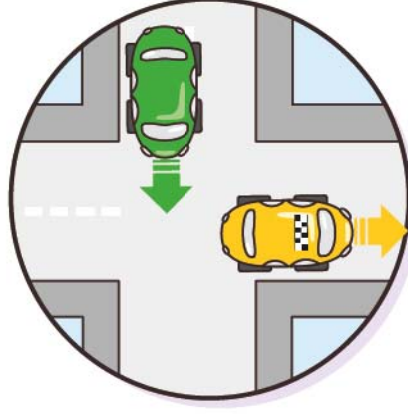
A 5

B 6

C 7

ALTIN BEYİN

9.



Yukarıdaki haritada yeşil araba kuzey yönüne doğru gidiyorsa diğer araba hangi yöne doğru gidiyordur?

- A** Batı **B** Doğu **C** Güney

ALTIN BEYİN

10.




Yukarıdaki duvarın tamir edilebilmesi için toplam kaç tane tuğlaya ihtiyacımız vardır?

- A** 25 **B** 26 **C** 27


ALTIN BEYİN

11.




Aşağıdaki parçalardan hangisi yukarıdaki küpü tamamlar?


A



B




C



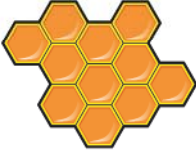
ALTIN BEYİN

12.



Yukarıda verilen bal peteğinin boşluğu aşağıda verilen hangi parça ile doldurulabilir?

A



B



C



ALTIN BEYİN

13.



Yukarıdaki resimde eksik parça aşağıdakilerden hangisi olabilir?

A



B




C



ALTIN BEYİN

14.



Yukarıdaki resimde eksik parça aşağıdakilerden hangisi olabilir?

A



B




C




ALTIN BEYİN

15.



Yukarıdaki şekildeki eksik parça aşağıdakilerden hangisidir?

A



B




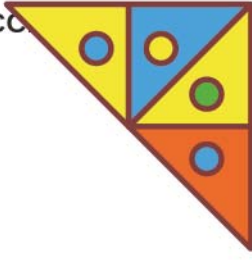
C



ALTIN BEYİN


16.

BBBCCABAABBACBAACC




Yukarıdaki üçgenler birleştirilerek aşağıdaki karelerden hangisi elde edilebilir?


A



B



C



ALTIN BEYİN

17.



Yukarıdaki şekil aşağıdakilerden hangisi ile birleştirilirse bir kare elde edilebilir?



ALTIN BEYİN

18.



Yukarıdaki şekil aşağıdaki parçalardan hangisi ile birleştirilirse bir daire elde edilebilir?

A



B



C



ALTIN BEYİN

19.



Yukarıdaki yarım pizzanın diğer yarısı aşağıdakilerden hangisi olabilir?

A



B




C



ALTIN BEYİN

20.



Bir terzi yukarıda verilen kumaştan aşağıda verilen parçalardan hangisini kesip çıkarmaz? (Kumaştan tek bir kesim yapılacaktır.)

A



B



C



ALTIN BEYİN