




ALTIN BEYİN



KANGURU MATEMATİK ÇALIŞMA SORULARI

1. Sınıf

Ad ve Soyad :

Sınıf :

SAYMA BECERİSİ TESTİ

www.altinbeyin.com

1. Aşağıdaki bulutlardan hangisinde sadece 5'ten büyük rakamlar vardır?

A



B

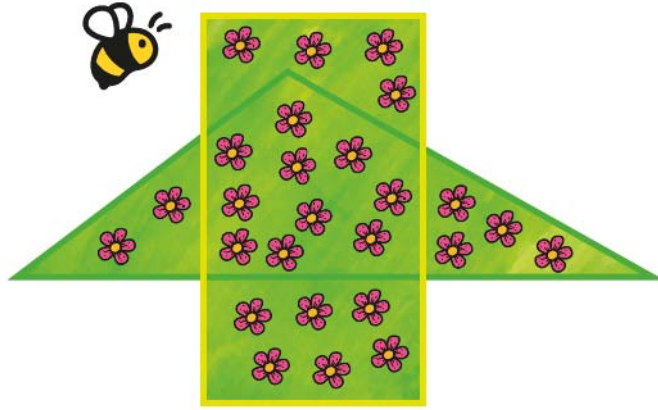


C



ALTIN BEYİN

2.



Yukarıdaki arı hem dikdörtgen hem de üçgen içerisinde olan tüm çiçeklere konduğuna göre toplam kaç çiçeğe konmuştur?

- A** 8 **B** 9 **C** 10

ALTIN BEYİN

3.



Bir çift çorap birbirinin aynısı iki tane çoraptan oluşur.

Emir'in odasında kaç çift çorap vardır?

- A** 2 **B** 3 **C** 4

ALTIN BEYİN

4.



Yusuf Mirza 4 köşeli yıldızları üst üste yukarıdaki gibi koymuştur.

Yusuf Mirza toplam kaç yıldız üst üste koymuştur?

A 5

B 6

C 7

ALTIN BEYİN

5.



Pizza şiparişi veren Emir pizzayı yukarıdaki gibi eş dilimlere bölerek bir kısmını yemiştir.
Buna göre Emir toplam kaç dilim pizza yemiştir?

- A** 4 **B** 5 **C** 6

ALTIN BEYİN

6.




Yukarıdaki şekilde 5 köşeli ve 7 köşeli yıldızlar vardır.

Buna göre toplam kaç tane 5 köşeli yıldız vardır?

- A** 6 **B** 7 **C** 8

ALTIN BEYİN

7.



Yukarıdaki eskimonun evini tamir etmesi için toplam kaç tane tuğlaya ihtiyacı vardır?

A

4

B

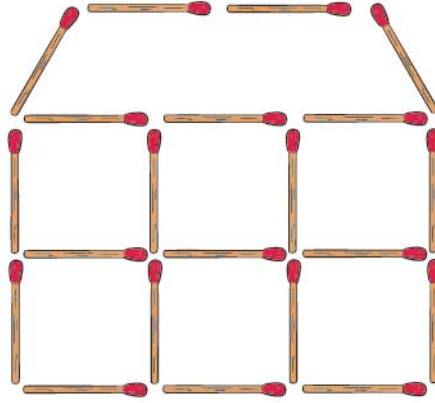
5

C

6

ALTIN BEYİN

8.



Anıl kibrit çöpleriyle yukarıdaki gibi bir ev modeli yapmıştır.

Bu modelde toplam kaç kibrit çöpü kullanılmıştır?

- A** 19 **B** 20 **C** 21

ALTIN BEYİN

9.

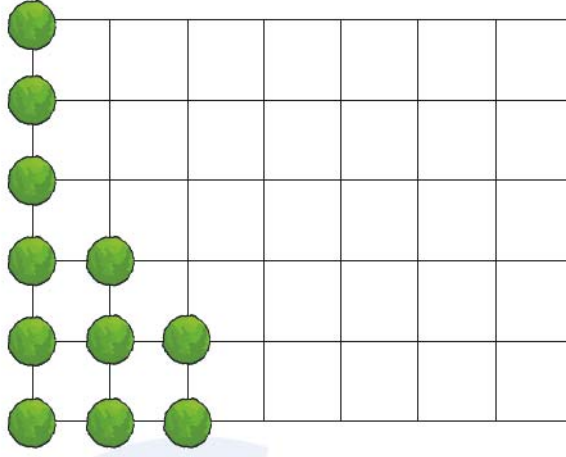


Yukarıdaki satranç tahtası ile ilgili aşağıdakilerden hangisi doğrudur?

- A 32 tane beyaz kare vardır.
- B 30 tane beyaz kare vardır.
- C 28 tane siyah kare vardır.

ALTIN BEYİN

10.



Yukarıdaki gibi karelere ayrılmış bahçede her bir karenin köşesine yukarıda gösterildiği gibi ağaç dikilecektir.

Buna göre toplam kaç ağaç gereklidir?


A 35

B 42

C 48

ALTIN BEYİN

11.



Yukarıdaki sayı kartları küçükten büyüğe soldan sağa doğru sıralanırsa soldan 4. kart aşağıdakilerden hangisi olur?

- A** 12 **B** 16 **C** 18

ALTIN BEYİN

12.



Yukarıdaki kütük kırmızı çizgilerden düz bir şekilde kesilirse toplam kaç parça elde edilir?

A

4

B

8

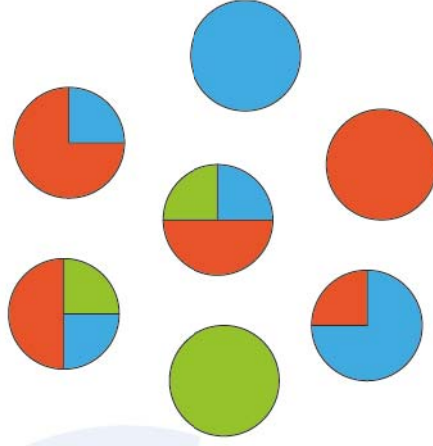
C

10



ALTIN BEYİN

13.

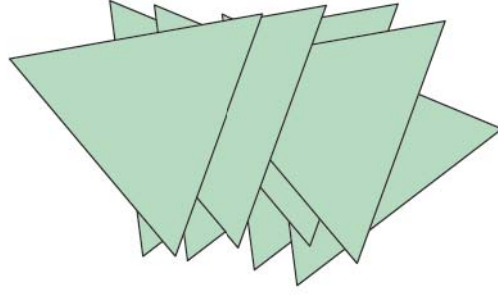


Yukarıda verilen dairelerden kaç tanesi 2 farklı renge boyanmıştır?

- A** 1 **B** 2 **C** 3

ALTIN BEYİN

14.



Birbirine eş üçgen şeklindeki kağıtlar üst üste konularak yukarıdaki şekil elde edilmiştir.

Buna göre toplam kaç kağıt kullanılmıştır?

A 6

B 7

C 8

ALTIN BEYİN

15.



Yukarıda verilen şekillerden hangisi en fazladır?

A



B



C



ALTIN BEYİN

16.



Zeki'nin 2 farklı renkte tişörtü ve 3 farklı renkte pantolonu vardır.

Buna göre Zeki pantolon ve gömlekları kaç farklı şekilde giyebilir?


A 3

B 5

C 6

ALTIN BEYİN

17.



Metehan'ın her birinin içinde yedişer tane kibrit olan kutusu ve bir miktar daha kibriti vardır.

Buna göre Metehan'ın toplam kaç tane kibriti vardır?


A 18

B 49

C 53

ALTIN BEYİN

18.



Yukarıda verilen yapboz toplam kaç parçadan oluşmaktadır?

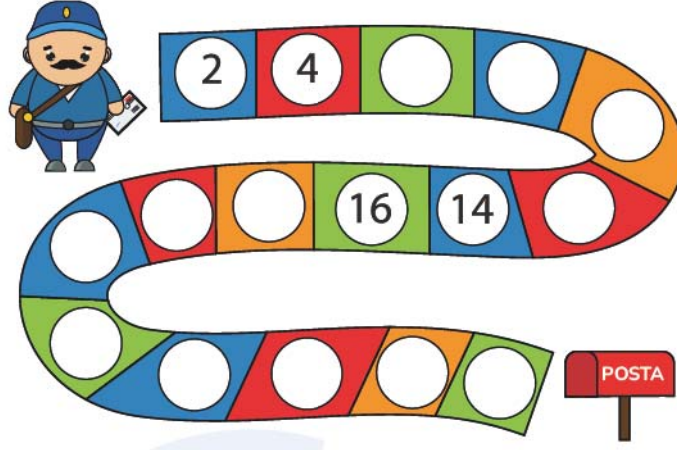
A 30

B 33

C 35

ALTIN BEYİN

19.




Yukarıdaki postacı ev numaraları şekildeki gibi devam eden evlere mektup bırakacaktır.

Postacı son olarak kaç numaralı eve mektup bırakmıştır?

- A** 30 **B** 32 **C** 34

ALTIN BEYİN

20.



Yukarıda gösterilen yapı kaç tane ahşap küp kullanılarak yapılmıştır?

A 5

B 6

C 7

ALTIN BEYİN