



ALTIN BEYİN



# KANGURU MATEMATİK ÇALIŞMA SORULARI

## 2. Sınıf

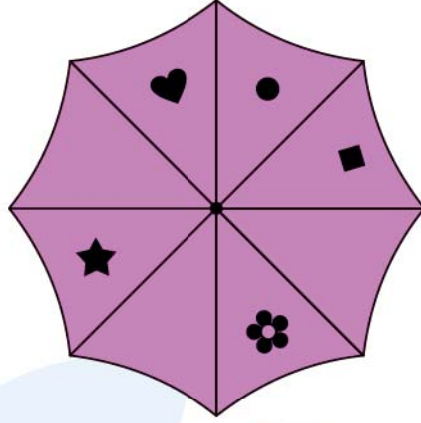
*Ad ve Soyad* : .....

*Sınıf* : .....

## ALGILAMA TESTİ

[www.altinbeyin.com](http://www.altinbeyin.com)

1.



Üstten görünümü verilen şemsiye aşağıdakilerden hangisi olabilir?

A



B




C




ALTIN BEYİN

2.




Yukarıdaki şekil aşağıdaki bloklardan hangisinin önden görünümü olabilir?


A



B

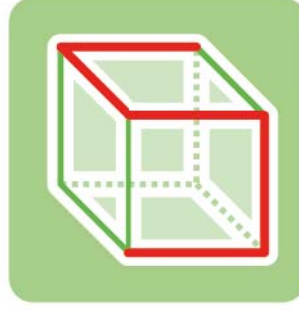


C



ALTIN BEYİN

3.



Yukarıda verilen şeffaf küpün kenarları şekildeki gibi çizilmiştir.

Buna göre küpün üstten görünümü aşağıdakilerden hangisi gibi olur?

A



B




C




ALTIN BEYİN

4.




Yukarıda birim küplerle yapılmış yapının üstten görünümünü aşağıdakilerden hangisidir?


A



B



C



ALTIN BEYİN

5.



Yukarıdaki ağacın üstten görünümü aşağıdakilerden hangisi gibi olabilir?



ALTIN BEYİN

6.

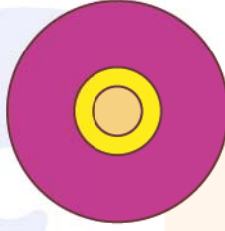


Yukarıda çubuğa üst üste konulan daire şeklindeki halkaların üstten görünümü aşağıdakilerden hangisi gibi olur?

A



B



C



ALTIN BEYİN



7.



Yukarıdaki duvarın tamir edilmesi için toplam kaç tuğlaya ihtiyacımız vardır?

A 24

B 25

C 26

ALTIN BEYİN



8.



Yukarıda büyük bir küpten kesilen bir parça gösterilmiştir.

Buna göre bu parça aşağıdaki küplerden hangisine aittir?

A



B




C



ALTIN BEYİN

9.



Yukarıdaki çikolata kutusundaki eksik çikolata parçası aşağıdakilerden hangisidir?

A



B

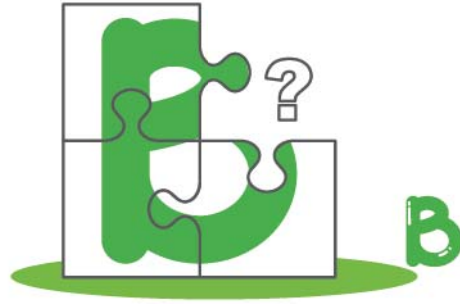


C



ALTIN BEYİN

10.



Yukarıdaki B harfinde eksik parça aşağıdakilerden hangisidir?

A



B




C




ALTIN BEYİN

11.




Yukarıdaki resimde eksik parça aşağıdakilerden hangisi olabilir?


A



B




C



ALTIN BEYİN

12.



Yukarıdaki resimde eksik parça aşağıdakilerden hangisi olabilir?


A



B



C



ALTIN BEYİN

13.



Yukarıdaki resimde eksik parça aşağıdakilerden hangisi olabilir?

A



B




C



ALTIN BEYİN




14.



Yukarıdaki şekildeki eksik parça aşağıdakilerden hangisidir?


A



B




C



ALTIN BEYİN



15.



Yukarıda verilen şeklin eksik parçası aşağıdakilerden hangisidir?

A



B




C



ALTIN BEYİN

16.



Yukarıda karışık halde verilen resim parçaları soldan sağa hangi sıra ile birleştirilirse resim tamamlanır?

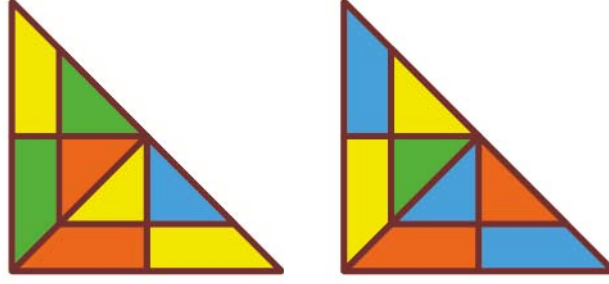
A 1-4-3-2-5

B 2-5-1-3-4

C 1-3-2-5-4

ALTIN BEYİN

17.




Yukarıdaki üçgenler birleştirilerek aşağıdaki karelerden hangisi elde edilebilir?


A



B




C



ALTIN BEYİN

18.



Yukarıdaki şekilde vinçte asılı duran çatı kaç numaralı eve aittir?

- A** 1      **B** 2      **C** 3

ALTIN BEYİN

19.



Yukarıdaki yarım pizzanın diğer yarısı aşağıdakilerden hangisi olabilir?

A



B

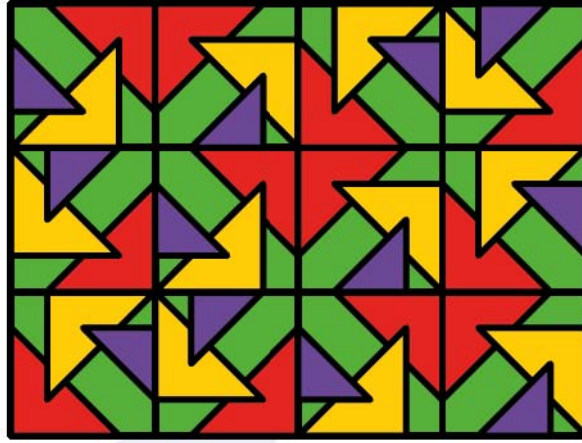


C



ALTIN BEYİN

20.



Aşağıda verilen şekillerden hangisi yukarıda verilen şeklin bir parçası olamaz?

A



B



C



ALTIN BEYİN