



ALTIN BEYİN



KANGURU MATEMATİK ÇALIŞMA SORULARI

2. Sınıf

Ad ve Soyad :

Sınıf :

SAYMA BECERİSİ TESTİ

www.altinbeyin.com

1.



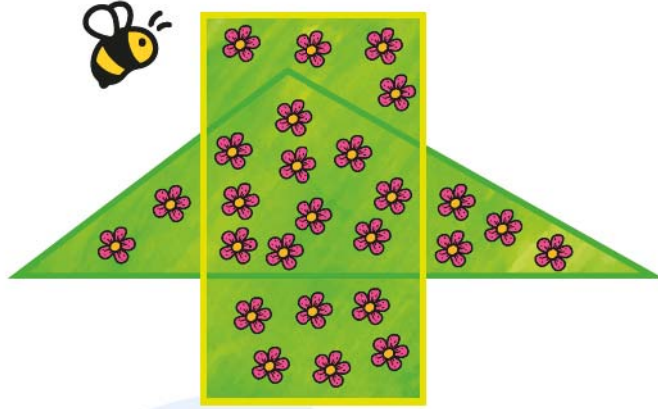
Yukarıdaki oyunda piyon gösterildiği konumda iken atılan zarın üst yüzeylerine gelen sayıların toplamı kadar ilerlenecektir.

Buna göre bu hamlede piyon kaç numaralı yere gelmelidir?

- A** 9 **B** 10 **C** 11

ALTIN BEYİN

2.



Yukarıdaki arı dikdörtgen içerisinde olmayan tüm çiçeklere konduğuna göre toplam kaç çiçeğe konmuştur?

A 4

B 5

C 6

ALTIN BEYİN

3.

21	19	18
11	14	17
16	24	23
9	15	18
29	35	22

Ahmet yukarıdaki tabloda 15'ten büyük sayıların bulunduğu tüm kareleri boyuyor.

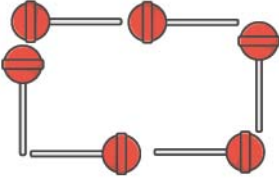
Buna göre Ahmet boyama sonrası hangi rakamı görür?

- A** 2 **B** 3 **C** 7

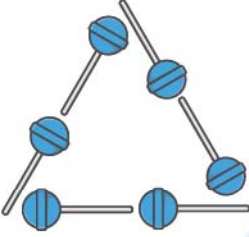
ALTIN BEYİN

4. Anıl 5 tane, Alper 6 tane şeker kullanarak şekiller yapmışlardır.
Buna göre aşağıdaki şekillerden hangisini Anıl yapmıştır?

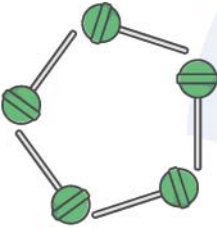
A



B



C



ALTIN BEYİN

5.



Yukarıdaki halat kesik çizgiler boyunca kesildiğinde toplam kaç parça halat elde edilir?

- A** 4 **B** 5 **C** 6

ALTIN BEYİN

6.



Her bir arı sahip olduğu anten sayısı ile aynı sayıda yaprak bulunan bir çiçeğe konmuştur.
Buna göre hangi çiçeğin arısı yoktur?

A



B

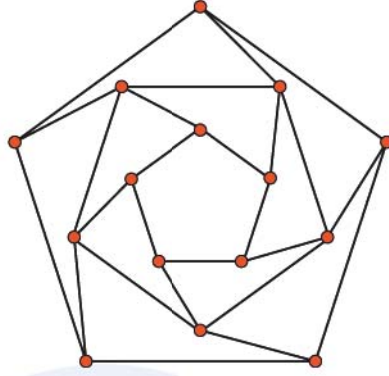


C



ALTIN BEYİN

7.



Yukarıdaki şekilde kaç tane nokta vardır?

A 14

B 15

C 16

ALTIN BEYİN

8.




Yukarıdaki paraların toplam değeri kaç ₺ dir?

- A** 350 **B** 370 **C** 385

ALTIN BEYİN

9.




Yukarıdaki şekilde toplam kaç tane şekil vardır?

- A 11 B 12 C 13

ALTIN BEYİN

10.



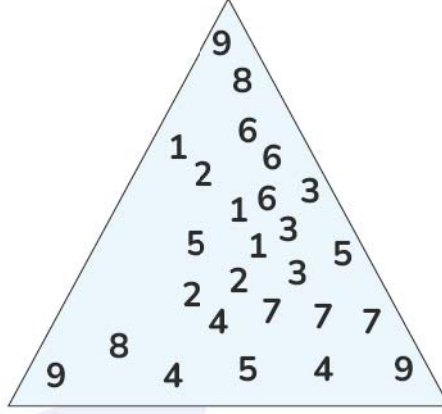
Yukarıda 33'ten büyük kaç tane kart vardır?

- A** 3 **B** 4 **C** 5



ALTIN BEYİN

11.



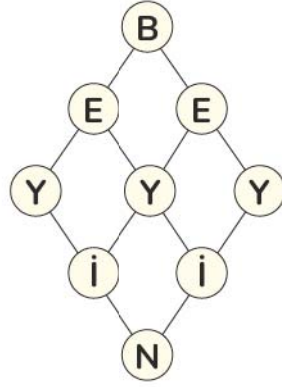
Yukarıda üçgen içinde yazılan her bir rakam üç defa yazılmıştır.

Buna göre hangi rakam üç defa yazılmamıştır?

- A** 2 **B** 4 **C** 8

ALTIN BEYİN

12.

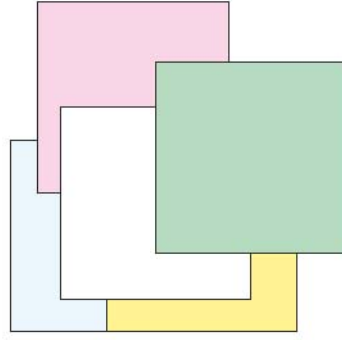


Yukarıdaki şekilde kaç farklı harf vardır?

- A** 9 **B** 5 **C** 4

ALTIN BEYİN

13.



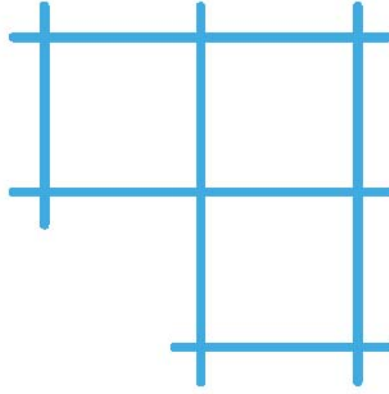
Birbirine eş kare şeklindeki kağıtlar üst üste konularak yukarıdaki şekil elde edilmiştir.

Buna göre toplam kaç kağıt kullanılmıştır?

- A** 3 **B** 4 **C** 5

ALTIN BEYİN

14.




Yukarıdaki şekil en az kaç düz çizgi çizilerek elde edilmiş olabilir?

- A** 4 **B** 5 **C** 6

ALTIN BEYİN

15.



Yukarıda verilen şekillerden hangisi en fazladır?

A



B



C



ALTIN BEYİN

16.



Niyazi'nin 3 farklı renkte gömleği ve 2 çeşit pantolonu vardır.

Buna göre Niyazi pantolon ve gömleklere kaç farklı şekilde giyebilir?


A 3

B 5

C 6

ALTIN BEYİN

17.



Yukarıdaki şekil toplam kaç tane yapım parçası ile yapılmıştır?

A 16

B 24

C 28

ALTIN BEYİN

18. İki tane Kızılderili olan Hoo ve Joo'dan Hoo'nun üç tüyü, iki düğmesi ve bir oku, Joo'nun bir tüyü, bir düğmesi ve üç oku vardır.

Buna göre Hoo ve Joo aşağıdakilerden hangisi olabilir?

A



B




C



ALTIN BEYİN

19.

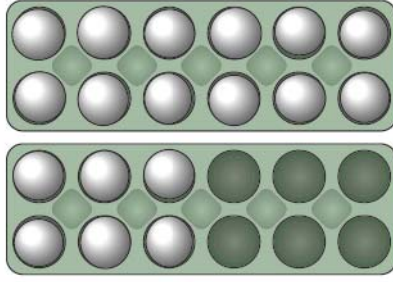


Yukarıdaki karelere "<" , ">" veya "=" sembolleri doğru yerleştirildiğinde hangi sembolden iki defa kullanılır?

- A** < **B** > **C** =

ALTIN BEYİN

20.



Yukarıdaki yumurta kolisinde toplam kaç yumurta vardır?

- A** 15 **B** 16 **C** 18



ALTIN BEYİN