



ALTIN BEYİN



KANGURU MATEMATİK ÇALIŞMA SORULARI

2. Sınıf

Ad ve Soyad :

Sınıf :

DİKKAT BECERİSİ TESTİ

www.altinbeyin.com

1.



Pakize'nin aynadaki görüntüsünü aşağıdakilerden hangisi gibi görürüz?

A



B



C



ALTIN BEYİN

2.



Yukarıda Metehan Bey'in evi gösterilmiştir.

Buna göre aşağıdakilerden hangisi evin göldeki yansıması olabilir?

A



B



C



3.



Yukarıda verilen çiçeğin aynadaki yansıması aşağıdakilerden hangisidir?


A



B



C



ALTIN BEYİN

4.



Yukarıdaki ineğin gölgesi aşağıdakilerden hangisi olabilir?

A



B



C



ALTIN BEYİN

5.



Yukarıdaki oyuncağın gölgesi aşağıdakilerden hangisidir?

A



B



C




ALTIN BEYİN

6.

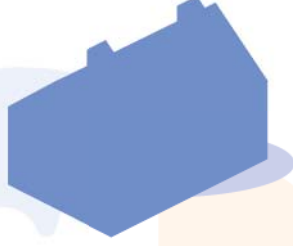


Yukarıdaki evin gölgesi aşağıdakilerden hangisidir?

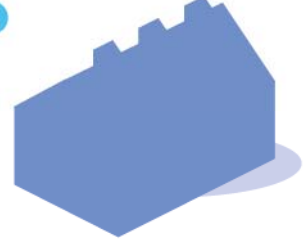
A



B



C



ALTIN BEYİN

7.



Yukarıdaki penguenin gölgesi aşağıdakilerden hangisidir?

A



B




C



ALTIN BEYİN

8.




Yukarıya 1'den 30'a kadar sayılar yazılmış fakat bir sayı yanlışlıkla 2 defa yazılmıştır.

Buna göre 2 defa yazılan sayının rakamları toplamı kaçtır?

- A** 3 **B** 4 **C** 7

ALTIN BEYİN

9.

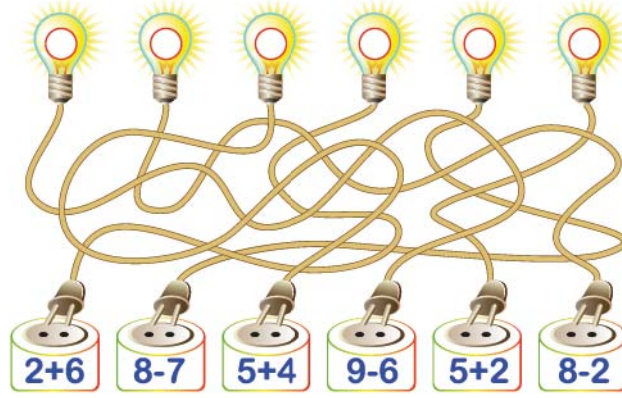


Yukarıdaki domino taşlarının kaç tanesinin üzerinde toplam 6 nokta bulunur?

- A** 1 **B** 3 **C** 5

ALTIN BEYİN

10.



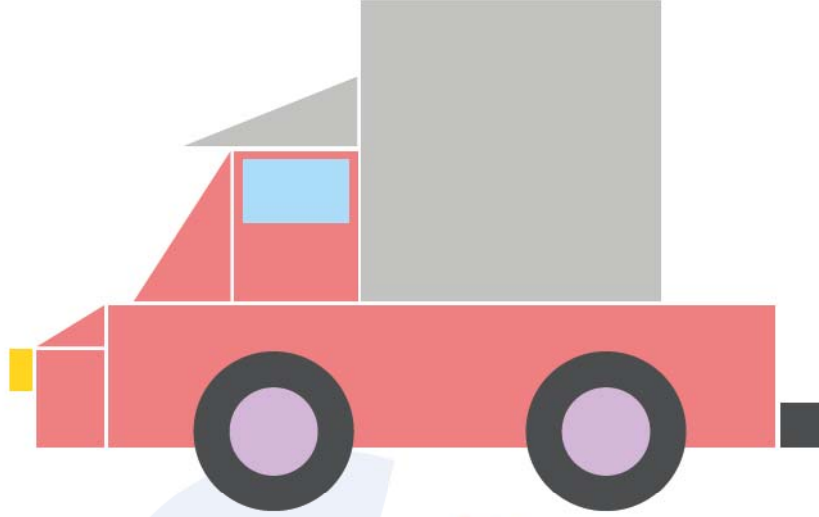
Yukarıdaki ampuller üzerinde işlem yazan prizlere yukarıdaki gibi bağlanacaktır.

Tüm ampuller yandığında prizlerdeki işlemlerin sonucu ampullerde görüldüğüne göre ampullerde soldan sağa doğru sırasıyla hangi sayılar görünür?

- A** 819376 **B** 369817 **C** 378916

ALTIN BEYİN

11.



Yukarıdaki şekilde kullanılan geometrik şekillerin sayısı aşağıdakilerden hangisinde doğru olarak verilmiştir?


A $\blacktriangle = 3$
 $\bullet = 2$
 $\blacksquare = 5$
 $\blacksquare = 3$

B $\blacktriangle = 2$
 $\bullet = 4$
 $\blacksquare = 6$
 $\blacksquare = 2$

C $\blacktriangle = 3$
 $\bullet = 4$
 $\blacksquare = 5$
 $\blacksquare = 2$

ALTIN BEYİN

12.



Yukarıdaki ev aletlerinden hangisinin fişi prize takılı değildir?

A



B

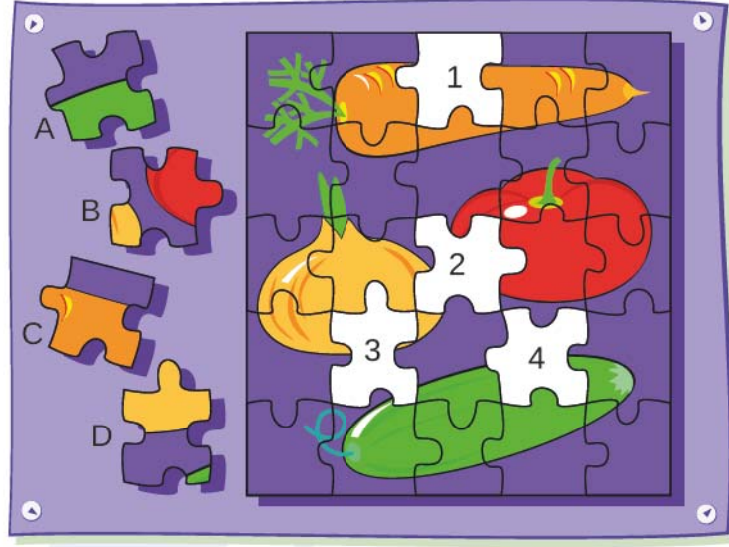


C



ALTIN BEYİN

13.

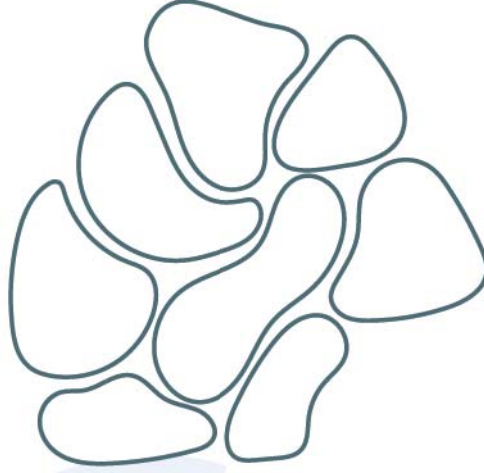


Yukarıda verilen A, B, C ve D yapboz parçaları 1, 2, 3 ve 4 numaralı boşluklardan hangilerine gelmelidir?

- | | | | | | |
|----------|-----|----------|-----|----------|-----|
| A | A-4 | B | A-4 | C | A-3 |
| | B-3 | | B-2 | | B-1 |
| | C-1 | | C-1 | | C-2 |
| | D-2 | | D-3 | | D-4 |

ALTIN BEYİN

14.



Yukarıdaki boşluklara aşağıdaki taşlardan hangisi yerleştirilemez?

A



B



C



ALTIN BEYİN

15.



Aşağıda verilen pizzalardan hangisi yukarıda verilen pizza ile aynıdır?

A



B



C




ALTIN BEYİN

16.



Yukarıda verilen şeklin eşi aşağıdakilerden hangisidir?

A



B




C



ALTIN BEYİN

17.



Yukarıdaki akvaryumda akvaryumun dışındaki balıklardan hangisi eksiktir?

A



B



C



18.



Aşağıdakilerden hangisi yukarıda yapıtaşlarıyla yapılan kule ile aynıdır?

A



B



C



19.



Yukarıda verilen şekilde sağ tarafta boyasız olarak verilen şekil hangi renktir?


A



B



C



ALTIN BEYİN

20.



Yukarıda verilen anahtarın eşi aşağıdakilerden hangisidir?

A



B



C



ALTIN BEYİN