



ALTIN BEYİN



KANGURU MATEMATİK ÇALIŞMA SORULARI

4. Sınıf

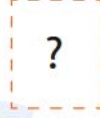

Ad ve Soyad :

Sınıf :

DİKKAT BECERİSİ TESTİ

www.altinbeyin.com

1.




Yukarıdaki bal peteğinin yansıması aşağıdakilerden hangisidir?


A




B



C

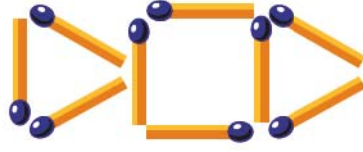


D



ALTIN BEYİN

2.



?

Yukarıda kibrit çöpleriyle yapılan şeklin yansıması aşağıdakilerden hangisidir?

A



B



C



D

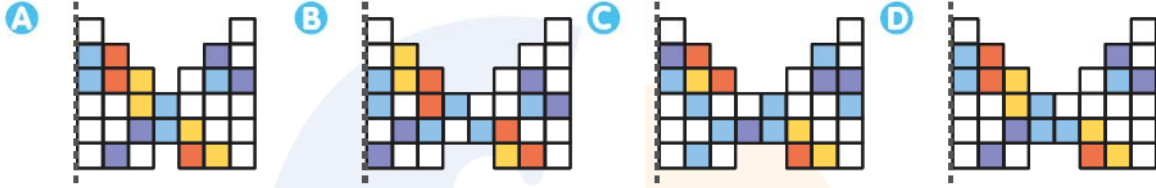


ALTIN BEYİN

3.




Yukarıdaki şeklin yansıması aşağıdakilerden hangisidir?



ALTIN BEYİN

4.



Yukarıdaki meyve kutusunun aynadaki görüntüsü aşağıdakilerden hangisi olabilir?


A



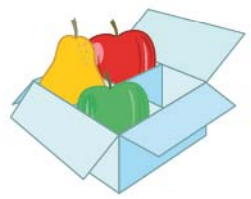
B



C



D



ALTIN BEYİN

5.



Yukarıdaki yapının gölgesi aşağıdakilerden hangisi olabilir?

A



B



C

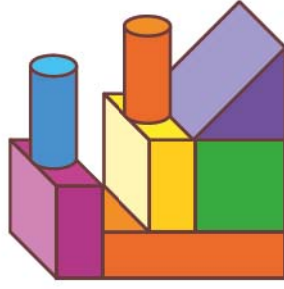


D




ALTIN BEYİN

6.



Yukarıdaki yapının gölgesi aşağıdakilerden hangisi olabilir?



ALTIN BEYİN

7.



Yukarıda yapı taşları ile yapılan bir kale verilmiştir.

Buna göre aşağıdaki parçalardan hangisi bu kalede bulunmaz?

A



B



C




D



ALTIN BEYİN

8.



Yukarıdaki ev aletlerinden hangisinin fişi prize takılı değildir?

A



B



C




D



ALTIN BEYİN

9.



Aşağıdaki sosis dilimlerinden hangisi kedinin elindeki ile aynıdır?

A



B



C



D



ALTIN BEYİN

10.



Aşağıda verilen pizzalardan hangisi yukarıda verilen pizzanın eşidir?

A



B



C



D




ALTIN BEYİN

11.




Yukarıdaki şekilde siyah yapboz parçalarını beyaz, beyaz yapboz parçalarını siyaha boyarsak aşağıdakilerden hangisi elde edilir?

A




B



C



D



ALTIN BEYİN

12.



Yukarıdaki ipler kullanılarak aşağıdaki kazaklardan hangisi örülebilir?

A



B



C



D



ALTIN BEYİN

13.



Aşağıdaki şekillerin hangisinde yukarıda verilen şekillerin tümü kullanılmamıştır?

A



B



C



D



ALTIN BEYİN

14.



Yukarıdaki korsan elindeki anahtarla aşağıdaki kilitlerden hangisini açabilir?

A



B



C



D



ALTIN BEYİN

15.



Yukarıdaki kurbağanın gölgesi aşağıdakilerden hangisidir?

A



B



C



D



ALTIN BEYİN

16. Aşağıdaki şekillerden hangisi diğerlerinden farklıdır?

A



B



C



D



ALTIN BEYİN

17.



Yukarıda bir şehrin silueti gösterilmiştir.

Buna göre aşağıdaki parçalardan hangisi bu resimde yoktur?

A



B



C



D



ALTIN BEYİN

18.



?

Yukarıdaki şeklin yansıması aşağıdakilerden hangisidir?


A



B



C



D



ALTIN BEYİN

19.

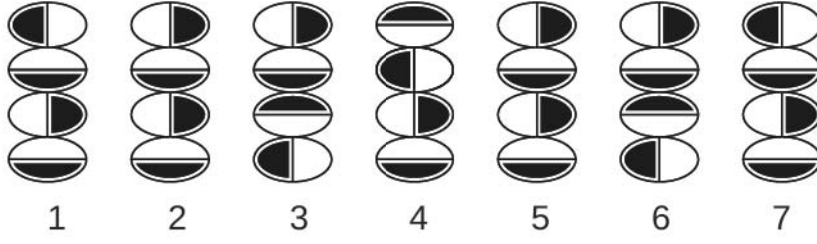


Yukarıdaki hayvanların göldeki yansıması aşağıdakilerden hangisidir?



ALTIN BEYİN

20.



Yukarıda verilen şekillerden hangisinin eşi yoktur?

A 1

B 2

C 3

D 4



ALTIN BEYİN