



ALTIN BEYİN



KANGURU MATEMATİK ÇALIŞMA SORULARI

2. Sınıf

Ad ve Soyad :

Sınıf :

ŞEKİL YETENEĞİ TESTİ

www.altinbeyin.com

1. Metehan 5 dğmeli, havu burunlu ve pűskűllű Őapkası olan bir kardan adam yapmıŐtır.
Metehan'ın yaptıĐı kardan adam aŐaĐıdakilerden hangisidir?

A



B




C



ALTIN BEYİN


2.



1



2



3



4

Ahmet 4 parçadan oluşan bir yapboz yapmıştır.

Buna göre bu parçalar aşağıdakilerden hangisi gibi yerleştirilmelidir?

A

3	1
4	2

B

1	3
2	4

C

2	3
1	4

ALTIN BEYİN

3.



Őule yukarıdaki tarihi eseri ziyarete gittiĐinde bir özçekim yapmıŐtır.

Buna gre aŐaĐıdakilerden hangisi Őule'ni yaptıĐı özçekim olabilir?

A



B

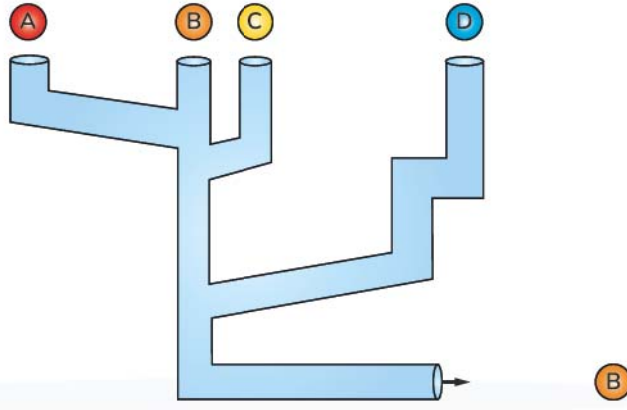


C



ALTIN BEYİN

4.



Yukarıdaki düzenekte A, B, C ve D topları boruların ierisinden bırakıldığında ilk nce B topu dıŐarı ıkmıŐtır.

Buna gre diĐer topların durumu aŐaĐıdakilerden hangisi gibi olur?

A A C D

B D A C

C D C A

ALTIN BEYİN

5. Arif'in üzerinde 1, 2 ve 3 rakamları bulunan kare, üçgen ve daire şeklinde 9 tane kartı vardır.



Arif bu kartları 3×3 lük tabloya;

- Her sütun ve her satırda yalnız bir şekil,
- Her sütun ve her satırda yalnız bir rakam olacak şekilde yerleştirmiştir.

1		
	2	
2	?	

Buna göre soru işaretli yere aşağıdakilerden hangisi yazılmalıdır?

- A 3 B 1 C 3

ALTIN BEYİN

6.



Bir yarışmadaki sıralamada ilk beőe girenlere ödöl verilmiőtir.

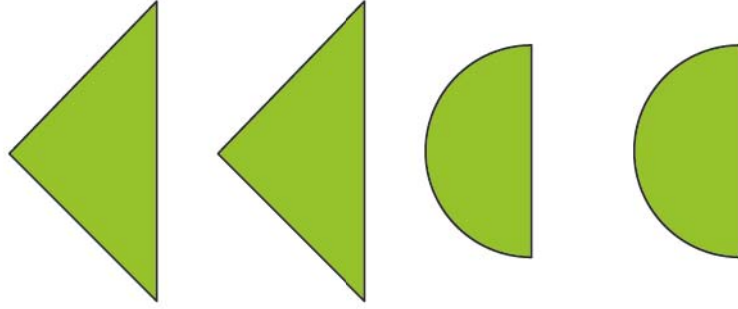
Ödöl töreninde en iyi derece yapan sahnede en yüksek yere çıkmıőtir.

Buna göre yarışmada üçüncü olan kimdir?

- A A B B C E

ALTIN BEYİN

7.




Zehra bir Őekli 4 paraya ayırmıŐtır.

Nergis bu paraları birleŐtirerek aŐaĐıdaki Őekillerden hangisini yapamaz?


A



B




C



ALTIN BEYİN

8.



Yukarıdaki yapbozda eksik parçalar tamamlandığında aŐaĐıdaki parçalardan hangisi kullanılmaz?


A



B


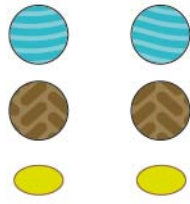


C



ALTIN BEYİN

9.



Salih yukarıdaki kelebeĐi verilen etiketleri kullanarak sűsleyecektir.

Buna gűre aŐaĐıdakilerden hangisi Salih'in sűslediĐi kelebek olabilir?


A



B




C



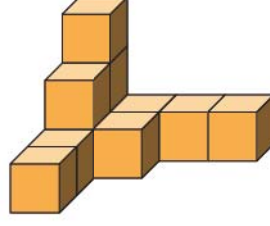
ALTIN BEYİN

10. Mehmet 10 tane kp blokla aŐaĐıdaki yapılardan hangisini yapabilir?

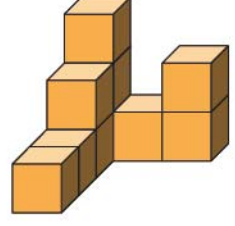
A



B

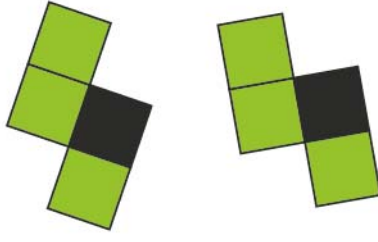


C



ALTIN BEYİN

11.



Yukarıda gösterilen iki yapboz parçası ters çevrilmeden birleştiriliyor.
Buna göre aşağıdakilerden hangisi elde edilemez?

A



B

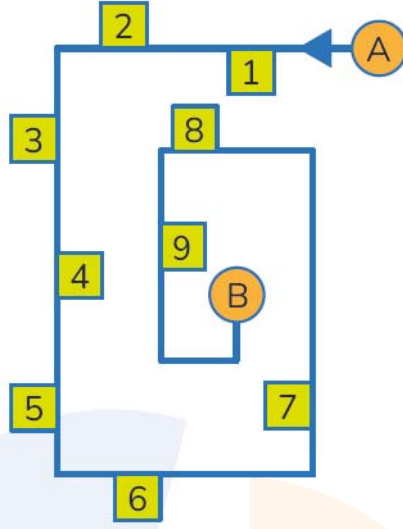


C



ALTIN BEYİN

12.



Mete A noktasından yola girip her zaman soluna bakarak B noktasına kadar yürümüřtür.

Buna göre Mete'nin gördüĐü evlerin numaraları sırasıyla ařaĐıdakilerden hangisidir?

A 2356

B 1479

C 1467

ALTIN BEYİN

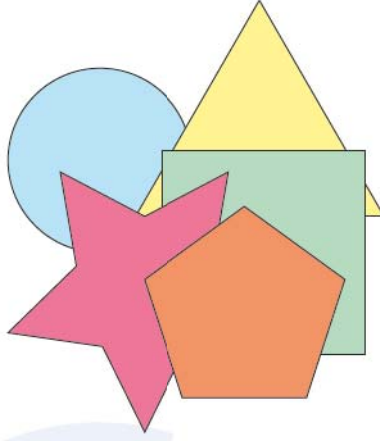
13. AŐaĐıdaki Őekillerden hangisinin tam olarak yarısı boyalıdır?

- A 
- B 
- C 



ALTIN BEYİN

14.

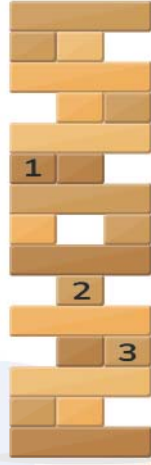


Yukarıdaki Őekilde en ortada hangi Őekil vardır?

- A** Yıldız **B** Kare **C** Üçgen

ALTIN BEYİN

15.



Yukarıda bloklarla yapılan kulede numaralandırılmış bloklardan hangisi alınırsa kule kesinlikle yıkılır?

- A** 1 **B** 2 **C** 3

ALTIN BEYİN


16.



Selim defterine keeli kalemle yukarıdaki gibi F harfi izmiŐtir.

F harfinin mrekkebi sayfanın arka tarafına getiĐine gre Selim sayfayı evirince F harfini nasıl grr?

A



B




C



ALTIN BEYİN


17.




Yukarıdaki evin ön taraftan görünümü Őekildeki gibidir. Evin arka tarafında 2 tane pencere vardır ve kapı yoktur.

Buna göre aŐağıdakilerden hangisi evin arka taraftan görüntüsü olabilir?


A



B

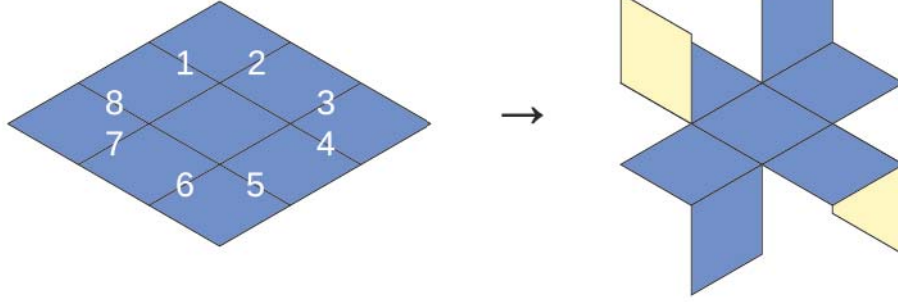


C



ALTIN BEYİN

18.



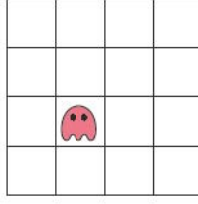
Yukarıda verilen bir yüzü mavi diđer yüzü sarı renkli karton birbirine eő karelere bölünmüőtür.

Bu karton numaralandırılmıő çizgilerin hangilerinden kesilirse Őekildeki gibi katlanabilir?

- A** 1-4-6-7 **B** 1-3-5-7 **C** 2-3-6-8

ALTIN BEYİN

19.

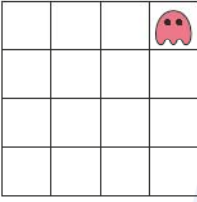


Yukarıdaki Őekilde Hayalet Böö 4x4 lük bir karede bulunmaktadır.

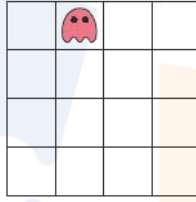
Böö önce 2 boşluk ŐaĐa sonra 2 boşluk yukarı ve son olarak 3 boşluk sola uçuyor.

Buna göre Hayalet Böö'nün son konumu aŐaĐıdakilerden hangisidir?

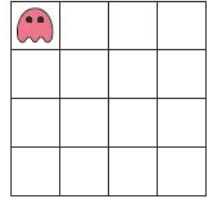
A



B

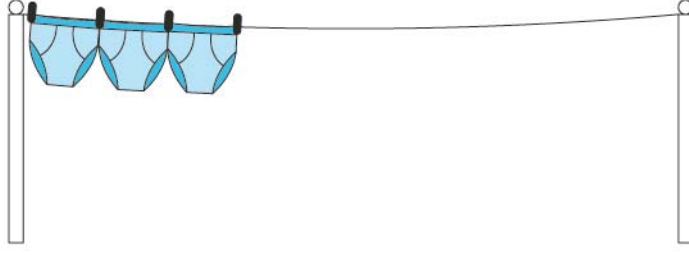


C



ALTIN BEYİN

20.



Ayőe Teyze amaőırlarını ipe yukarıdaki gibi asmıőtır.

Ayőe Teyze 3 amaőır iin 4 tane mandal kullandıĐına gre 10 amaőır asmak isterse toplam ka mandal kullanması gerekir?

- A** 9 **B** 10 **C** 11

ALTIN BEYİN