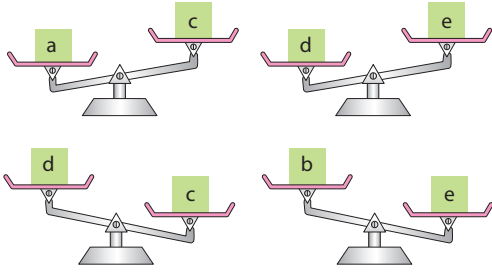


1.



Yukarıdaki terazilerin denge durumuna göre en hafif ağırlık hangisidir?

- A) a B) b
C) c D) d

2.



Emre ve Metin her biri her gün 2 veya 3 tane çikolata yiyorlar.

Emre toplam 43 tane, Metin toplam 61 tane çikolata yediğine göre Emre ve Metin toplam kaç gün çikolata yemişlerdir?

- A) 18 B) 19
C) 20 D) 21

3. 42 ₺ ile bakkala giden Ahmet 3 ₺ lik ve 5 ₺ lik çikolatalardan almak istiyor.

Bu çikolataların birini diğerinin 2 katından fazla almak istemediğine göre Ahmet en fazla kaç çikolata alabilir?

- A) 10 B) 11
C) 12 D) 13

4.




Ferhat hafta sonları çim biçme veya araba yıkama işleri yapmaktadır. Her çim biçme işi için 50 ₺, her araba yıkama işi için 90 ₺ para almaktadır.

En son hafta sonu 560 ₺ para kazanan Ferhat toplam kaç işe gitmiştir?

- A) 6 B) 8
C) 10 D) 11

OMAGE

5.



Bekir kardeşi Gamze'den 2 yaş büyüktür. Gamze de ikiz kardeşleri Efe ve Ege'den 3 yaş büyüktür.

Hepsinin yaşları toplamı 40 olduğuna göre Gamze kaç yaşındadır?

- A) 9 B) 10
C) 11 D) 13



TEST 1

6.



İki turist düz bir yolda saatte 4 km/sa hızla giderken aralarındaki mesafe 12 km'dir. Turistler yollarına devam ediyor ve yokuşa tırmanmaya başlıyorlar.

Turistlerin yokuştaki hızları 3 km/sa olduğuna göre tırmanma sırasında aralarındaki mesafe kaç km olur?

- A) 16 B) 12
C) 10 D) 9

7. Bir işyerindeki personelin pazartesi günü 15 tanesi, salı günü 12 tanesi ve çarşamba günü 9 tanesi işe bisikletle gelmiştir.

22 personelin hepsi bu üç gün boyunca en az bir kere iş yerine bisikletle geldiğine göre bu üç günün üçünde de bisikletle işe gelen personel sayısı en fazla kaç olabilir?

- A) 5 B) 6
C) 7 D) 8

8.



Bir izci kampında 6 çadır ve bu çadırlarda kalan toplam 18 öğrenci vardır.

Çadırlarda 2 veya 8 öğrenci kalabildiğine göre kaç çadır 2 kişiliktir?

- A) 2 B) 3
C) 4 D) 5

9. Kerem'in 5 ₺, 10 ₺ ve 20 ₺'lik kağıt paralarından oluşan toplam 200 ₺'si vardır. Kerem'in 20 adet kağıt parası vardır ve 20 ₺'liklerin sayısı 10 ₺'liklerin sayısından fazladır.

Buna göre 5 ₺'lik kağıt para sayısı kaçtır?

- A) 6 B) 8
C) 10 D) 12

10.



Yusuf 20 kg zayıflarsa kedisinin ağırlığının 4 katı olmaktadır.

Yusuf, kedisini ile birlikte tartılınca 60 kg geliyorsa kedinin ağırlığı kaç kg'dır?

- A) 4 B) 8
C) 16 D) 24

OMAGE



1. Bir sınıftaki 34 öğrencinin her biri bir hikaye yazıyor. Bu 34 hikayenin herbiri 1'den 34'e kadar farklı sayfa sayılarına sahiptir.

Öğretmen öğrencilerden bu hikayeleri toplayıp tek bir kitap haline getirmek istiyor. Bu kitapta ilk hikaye 1. sayfadan başlayacak ve diğer hikayeler aralarda boş sayfa olmayacak şekilde yeni bir sayfadan başlayacaktır.

Kitaptaki hikayelerin mümkün olduğunca tek numaralı sayfadan başlaması istendiğine göre en fazla kaç tane hikaye tek numaralı sayfadan başlayabilir?

- A) 17 B) 18
C) 25 D) 26

2.

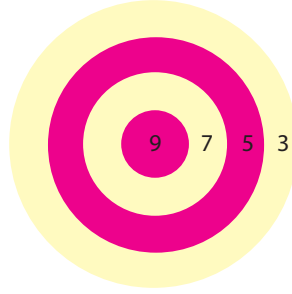


Bir manav limonlarını 52 paket kullanarak her pakette eşit miktarda limon olacak şekilde paketlediğinde 8 limon artıyor. Eğer her pakette 2 limon eksik olsaydı 60 paket kullanılacaktı.

Buna göre manavın kaç limonu vardır?

- A) 540 B) 480
C) 840 D) 720

3.



Yusuf yukarıdaki hedef tahtasına 8 tane atış yapmış ve bütün atışlar tahtaya isabet etmiştir.

Buna göre Yusuf aşağıdaki puanlardan hangisini alabilir?

- A) 22 B) 37
C) 42 D) 69

4. Lunaparka giden Elif 2¢, 1¢ ve 50 kuruşluk toplam 20 tane jeton alır ve 25¢ para öder.

2¢'lik jetonların sayısı 1¢'lik jetonların sayısından 2 fazla olduğuna göre Elif 50 kuruşluk kaç jeton almıştır?

- A) 6 B) 8
C) 0 D) 12

5.



Ayşe'nin yürüme hızı 4 km/sa, bisikletle hızı 20 km/sa'tir. Ayşe evinden okula yürüyerek gitmektedir.

Eğer Ayşe okula bisikletle gitseydi 24 dk erken varacağına göre Ayşe'nin evi ile okulu arası kaç km'dir?

- A) 1 B) 1,5
C) 2 D) 2,5

OMAGE



TEST 2

6. Ahmet Bey'in Damla ve Hasan adında 2 çocuğu vardır. Ahmet Bey'in ve çocuklarının yaşları toplamı 49'dur. Damla'nın yaşı Hasan'ın yaşının 3 katıdır.

5 yıl sonra Ahmet'in yaşı Damla'nın yaşının 3 katı olacak ise hepsinin yaşları çarpımı kaçtır?

- A) 749 B) 666
C) 855 D) 999

7.



Ayhan ve Bekir kargo deposunda çalışan iki görevlidir. Bu görevlilerin motosikletleri tam dolu depo ile en fazla 300 km gidebiliyor.

İki çalışan tam dolu depo ile Ceren'in kargosunu vermek üzere motosikletleri ile yola çıkıyorlar. Yolun herhangi bir kısmında Ayhan kendi motorundan, Bekir'in motoruna bir miktar benzin aktarıp depoya geri dönüyor. Bekir ise Ceren'in kargosunu teslim edip depoya geri dönüyor.

Buna göre Ceren'in evinin depoya olan uzaklığı en fazla kaç km olabilir?

- A) 180 B) 200
C) 250 D) 300

8. Kemal ve Emre kendi aralarında 12 maç yapıyorlar. Her maçta kazanan 5 puan ve kaybeden 3 puan kazanıyor.

Oyunun sonunda Emre'nin toplam puanı 46 ise Kemal kaç maç kazanmıştır?

- A) 4 B) 5
C) 6 D) 7

OMAGE

9.



Doktor bir kutu ilaç verdi ve her gün 2 tane hap almamı söyledi.

Eğer her gün 3 tane hap alırsam bir kutu ilaç 8 gün daha az yeteceğine göre bir kutuda kaç tane hap vardır?

- A) 24 B) 36
C) 48 D) 60

TEST 1	B	D	A	B	C	D	C	D	D	B
TEST 2	D	C	C	A	C	D	B	D	C	