




ALTIN BEYİN



KANGURU MATEMATİK ÇALIŞMA SORULARI

3. Sınıf

Ad ve Soyad :

Sınıf :

DİKKAT BECERİSİ TESTİ

www.altinbeyin.com

1.



Yukarıdaki şeklin yansıması aşağıdakilerden hangisidir?

A



B



C

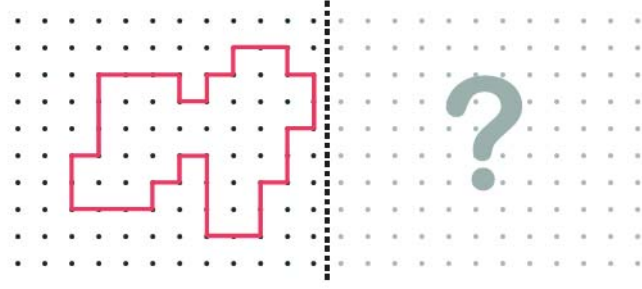


D



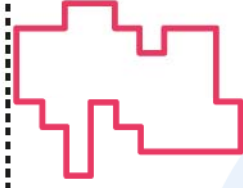
ALTIN BEYİN

2.



Yukarıdaki şeklin yansıması aşağıdakilerden hangisidir?

A



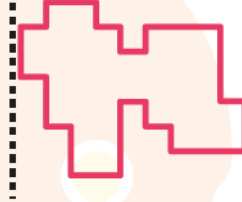
B



C



D



ALTIN BEYİN

3.



Yukarıdaki şeklin yansıması aşağıdakilerden hangisidir?



ALTIN BEYİN

4.



Yukarıdaki şatonun gölgesi aşağıdakilerden hangisidir?

A



B



C

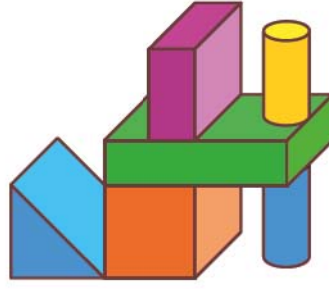


D



ALTIN BEYİN

5.



Yukarıdaki yapının gölgesi aşağıdakilerden hangisi olabilir?

A



B



C



D



ALTIN BEYİN

6.




Terzi Sueda Hanım elbiseyi tamamlamak için aşağıda verilen kumaşların hangisinden bir parça kesmelidir?



ALTIN BEYİN

7.



Yukarıda verilen eski saat aşağıdaki anahtarların hangisi ile çalıştırılabilir?

A



B



C

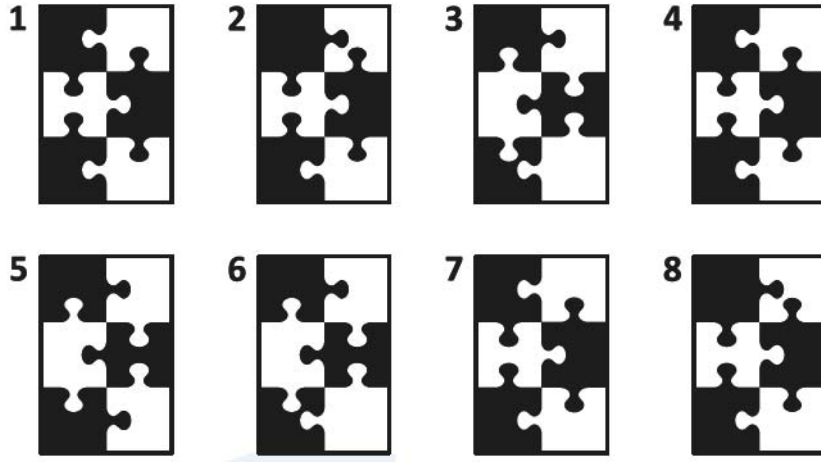


D



ALTIN BEYİN

8.



Yukarıdaki şekillerden hangisinin eşi yoktur?

- A** 1 **B** 2 **C** 5 **D** 7

ALTIN BEYİN

9.



Aşağıdaki şekillerin hangisinde yukarıda verilen şekillerin tümü kullanılmıştır?

A



B



C



D



ALTIN BEYİN

10.



Aşağıdaki şekillerden hangisi yukarıdaki şeklin aynısıdır?

A



B



C



D



ALTIN BEYİN

11. Aşağıdaki şekillerden hangisi diğerlerinden farklıdır?

A



B



C



D



ALTIN BEYİN

12.



?

Yukarıdaki şeklin yansıması aşağıdakilerden hangisidir?

A



B



C



D



ALTIN BEYİN

13.



Yukarıdaki aynada yansıması verilen kağıt aşağıdakilerden hangisidir?

A



B



C

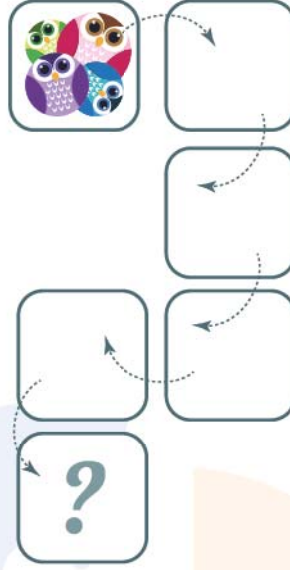


D



ALTIN BEYİN

14.



Yukarıdaki kartın ok yönlerinde döndürüldükten sonra elde edilen görüntüsü aşağıdakilerden hangisidir?

A



B



C

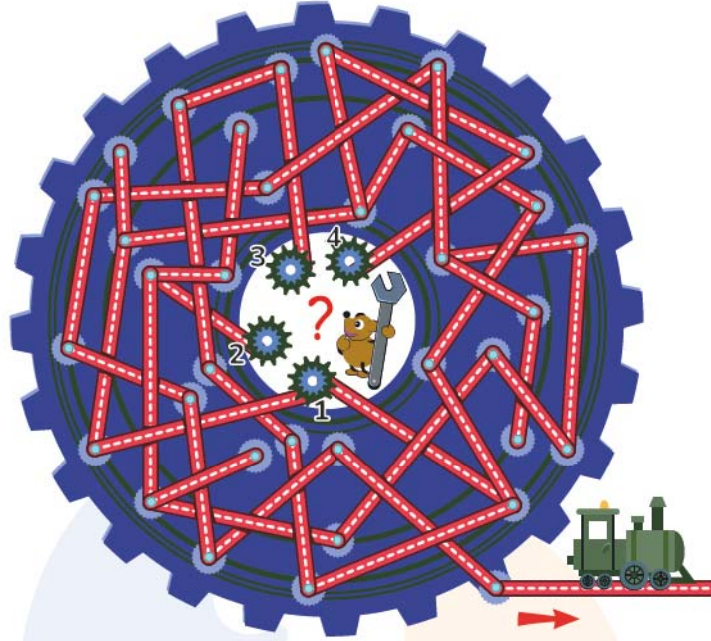


D



ALTIN BEYİN

15.



Yukarıdaki numaralandırılmış dişlilerden hangisini döndürsek tren hareket eder?

- A** 1 **B** 2 **C** 3 **D** 4

ALTIN BEYİN

16.



Aşağıdaki kartlardan hangisi yukarıdaki kartla aynıdır?

A



B



C

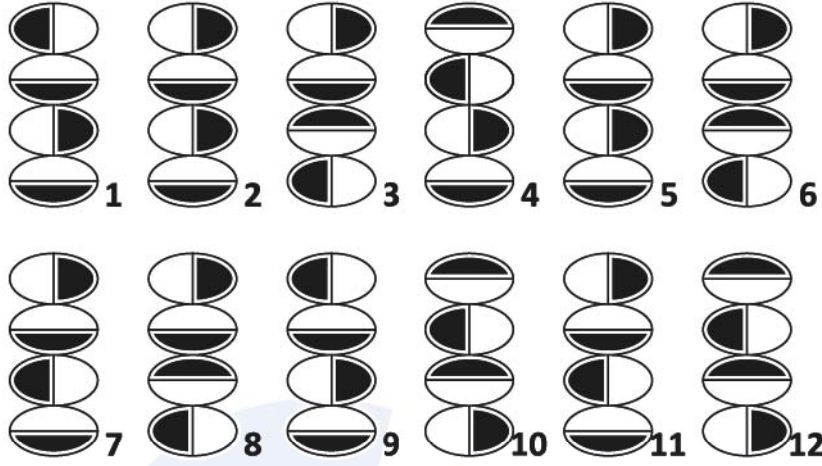


D



ALTIN BEYİN

17.



Yukarıda verilen şekillerden sadece bir tanesinin eşi bulunmamaktadır.

Buna göre eşi olmayan şekil aşağıdakilerden hangisidir?

- A** 2 **B** 4 **C** 8 **D** 10

ALTIN BEYİN

18.



Yukarıdaki şekilde 1 numaralı olta hangi cisme takılmıştır?

A

A

B

B

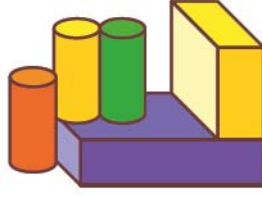
C

C

D

D

19.




Yukarıdaki yapının gölgesi aşağıdakilerden hangisi olabilir?



ALTIN BEYİN

20.



Yukarıdaki yapının gölgesi aşağıdakilerden hangisi olabilir?

A



B



C



D



ALTIN BEYİN