



ALTIN BEYİN



**KANGURU  
DENEME-1**

**1. ve 2. Sınıflar**

*Ad ve Soyad :* .....

*Sınıf :* .....

**ALTIN BEYİN  
KANGURU DENEME SINAVI**

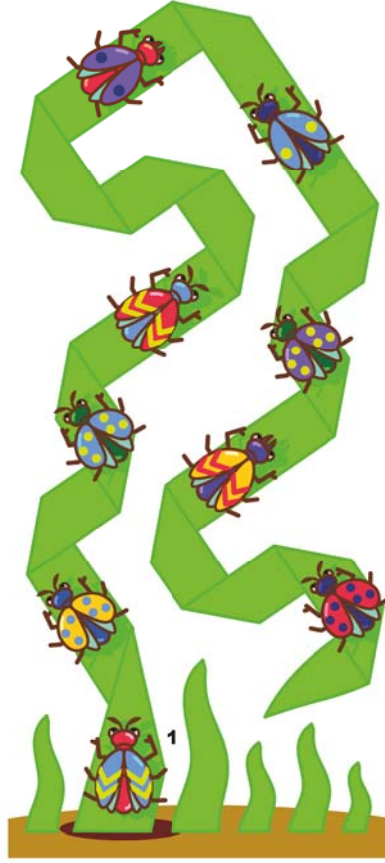
[www.altinbeyin.com](http://www.altinbeyin.com)

Çözümler için **Altın Beyin Akademi**  
Youtube kanalımızı ziyaret edebilirsiniz.





1.



Yukarıdaki şekilde bir çim yaprağının üstünde duran böcekler verilmiştir.

**Buna göre kaç tane böcek 1 numaralı böcek ile çim yaprağının aynı tarafında durmaktadır?**

- A** 2      **B** 3      **C** 4      **D** 5      **E** 6

2.




Yukarıdaki resimde  ve  evlerinin toplam sayısı kaçtır?

- A** 7      **B** 8      **C** 9      **D** 10      **E** 11





3.



Yukarıda birim küplerle yapılan yapıda toplam kaç tane küp kullanılmıştır?

- A** 9      **B** 10      **C** 11      **D** 12      **E** 13

4.



Yukarıdaki mantar evlerin üzerindeki noktalar bu evlerde kaç tane cücenin saklanabileceğini göstermektedir.

Yağmur yağdığında dışarıda 20 cüce bulunduğuna göre kaç cüce ıslanmıştır?

- A** 3      **B** 4      **C** 5      **D** 6      **E** 7

5.

1	2	3
4	5	6
7	8	9

Yukarıdaki 3×3 lük karede 2. satırdaki sayıların toplamı kaçtır?

- A** 6      **B** 8      **C** 9      **D** 15      **E** 24







6.



1



2



3



4

Cihan 4 parçadan oluşan bir yapboz yapmıştır.

Buna göre bu parçalar aşağıdakilerden hangisi gibi yerleştirilmelidir?

A

1	2
3	4

B

1	3
2	4

C

3	1
4	2

C

4	2
1	3

C

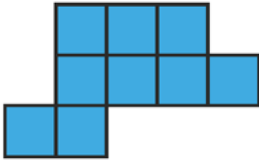
4	2
3	1

7.

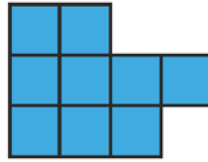


Yukarıdaki üç parça birleştirilerek aşağıdakilerden hangisi elde edilemez?

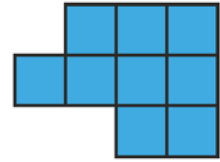
A



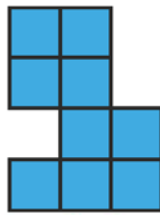
B



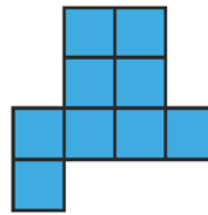
C



D




E





8.

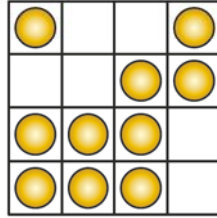


Yukarıdaki A ve B kartlarında beyaz bölgeler şeffaftır.

**Bu kartlar yönleri hiç değiştirilmeden ortada bulunan kartın üzerine üst üste konulduğunda kaç tane resim görünür?**

- A** 2      **B** 3      **C** 4      **D** 5      **E** 6

9.

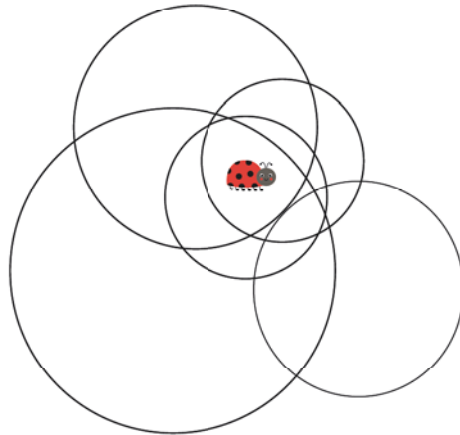


Cihan yukarıdaki 4×4 lük karede bulunan çikolata paralardan bazılarını her sütunda veya her satırda sadece 2 çikolata olacak şekilde yemiştir.

**Buna göre Cihan en az kaç tane çikolata yemelidir?**

- A** 1      **B** 2      **C** 3      **D** 4      **E** 5

10.



Yukarıdaki uğur böceği kaç dairenin içindedir?

- A** 2      **B** 3      **C** 4      **D** 5      **E** 6



11.



Bir çift çorap birbirinin aynısı iki tane çoraptan oluşur.

Emir'in odasında kaç çift çorap vardır?

- A** 2      **B** 3      **C** 4      **D** 5      **E** 6

12.

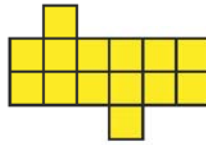
9	1	2
8	10	11
7	2	5
9	18	12
5	8	4

Selim yukarıdaki tabloda 10'dan küçük sayıların bulunduğu tüm kareleri boyuyor.

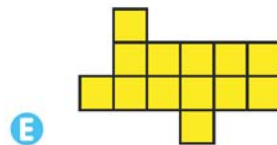
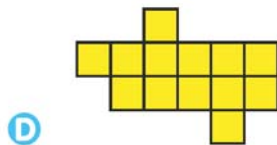
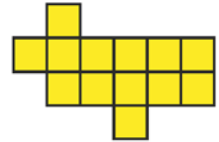
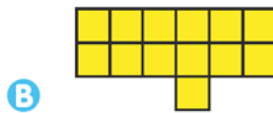
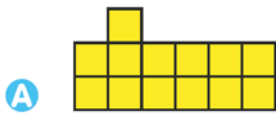
Buna göre Selim boyama sonrası hangi harfi görür?

- A** F      **B** L      **C** E      **D** T      **E** H

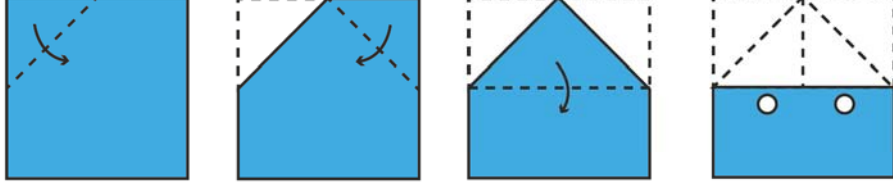
13.



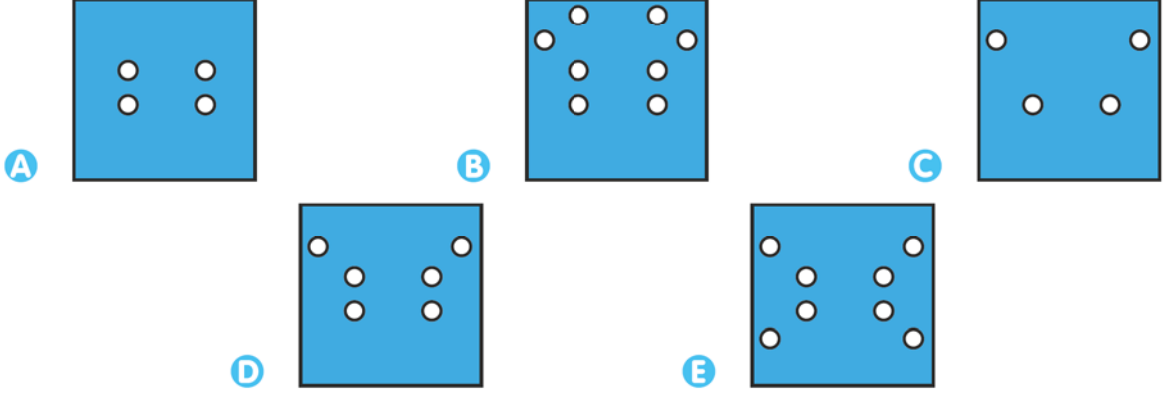
Yukarıda karelerden oluşan kağıttan sadece bir kare kesilip atılırsa aşağıdakilerden hangisini elde edemeyiz?



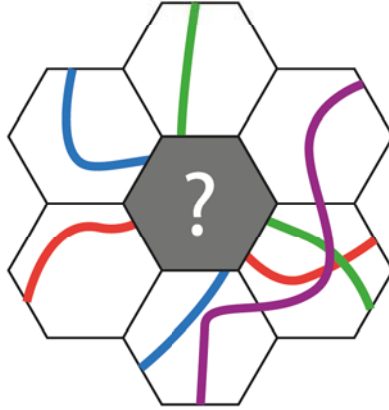
14.



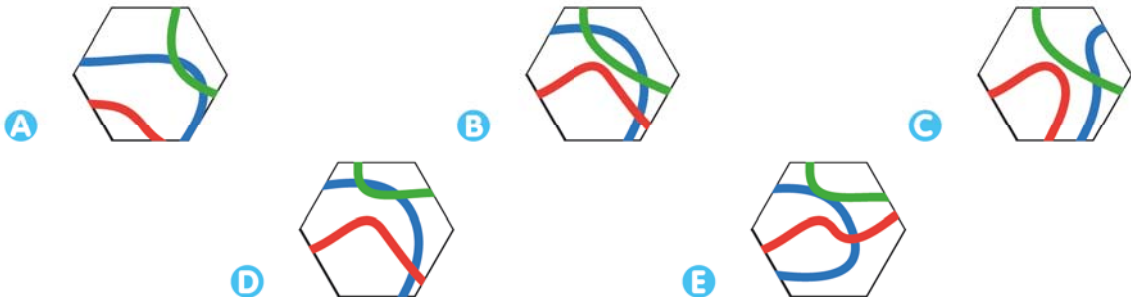
Kare şeklindeki kağıt ok yönünde katlanıp şekilde gösterilen yerlerden deliniyor. Kağıt tekrar geri açıldığında aşağıdaki görünümünden hangisi oluşur?



15.



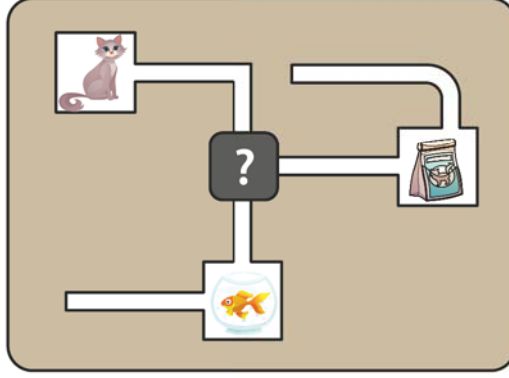
Yukarıdaki şekilde eksik parça aşağıdakilerden hangisidir?







16.



Yukarıdaki şekilde kedinin mamasına ulaşması fakat balığa ulaşmaması gerekmektedir.

Buna göre aşağıdaki parçalardan hangisi soru işaretli yere gelmelidir?

A



B



C



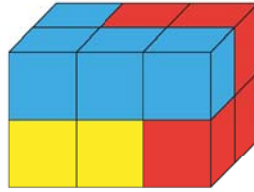
D



E



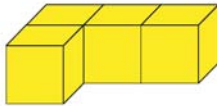
17.



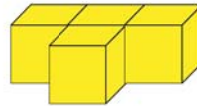
Yukarıda verilen yapı her biri 4 birim küpten oluşan mavi, kırmızı ve sarı renkli parçalardan oluşmaktadır.

Buna göre sarı renkli parça aşağıdakilerden hangisi olabilir?

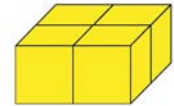
A




B



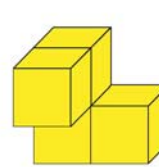
C



D

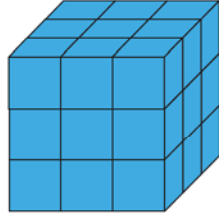


E

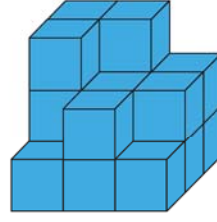




18.



Metehan'ın Küpü



Ömer'in Küpü

Metehan mavi renkli küplerle büyük bir küp yapıyor.

**Ömer'in aynı küpü yapabilmesi için kaç tane daha mavi renkli küpe ihtiyacı vardır?**

- A** 2      **B** 4      **C** 6      **D** 8      **E** 10

19.

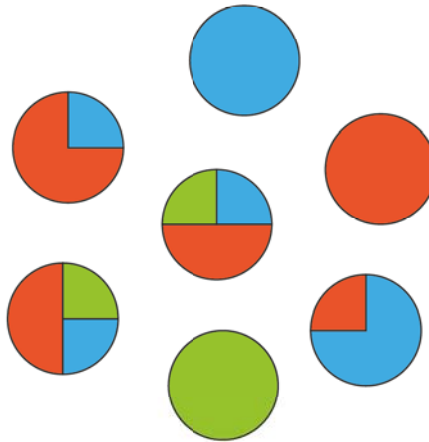


Kare şeklindeki bir kağıdın bir kenarına yukarıdaki gibi 5 tane ataş yerleştirilebilmiştir.

**Buna göre bu kağıdın etrafına toplam kaç tane ataş yerleştirilebilir?**

- A** 10      **B** 15      **C** 20      **D** 25      **E** 30

20.



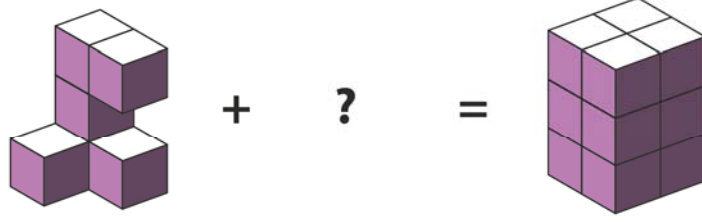
**Yukarıda verilen dairelerden kaç tanesi 2 farklı renge boyanmıştır?**

- A** 1      **B** 2      **C** 3      **D** 4      **E** 5

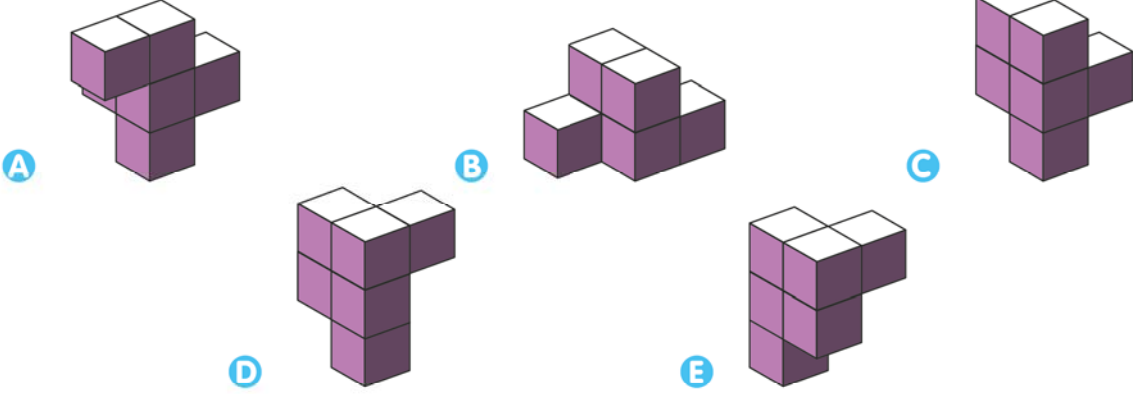





23.



Yukarıda verilen eşitliğe göre soru işareti yerine gelmesi gereken şekil aşağıdakilerden hangisidir?



24.



Kare şeklinde bir cam parçasına yukarıdaki gibi üç şerit yapıştırılmıştır.

Cam ters çevrildiğinde aşağıdakilerden hangisi gibi görünür?

