




ALTIN BEYİN



KANGURU MATEMATİK ÇALIŞMA SORULARI

3. Sınıf

Ad ve Soyad :

Sınıf :

ALGILAMA TESTİ

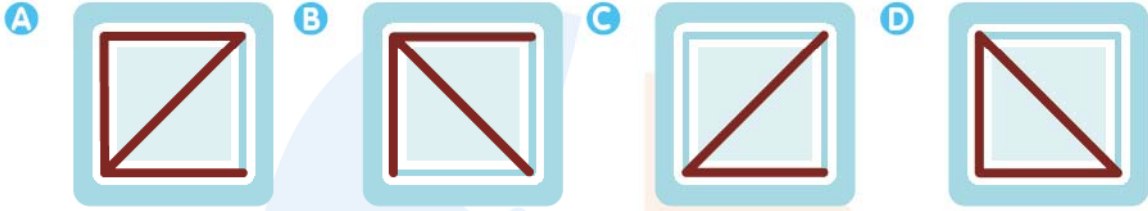
www.altinbeyin.com

1.



Yukarıda verilen şeffaf küpün kenarları şekildeki gibi çizilmiştir.

Buna göre küpün üstten görünümü aşağıdakilerden hangisi gibi olur?



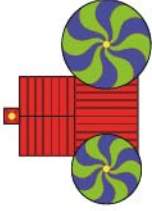
ALTIN BEYİN

2.



Yukarıda verilen şatonun üstten görüntüsü aşağıdakilerden hangisi olabilir?

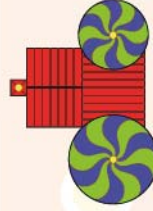
A




B



C




D




ALTIN BEYİN

3.




Yukarıda küp şeklindeki zarlar kullanılarak yapılmış yapının üstten görünümü aşağıdakilerden hangisidir?


A




B



C




D



ALTIN BEYİN

4.



Yukarıda demir çubuklarla yapılmış cisimlerin üstten görünümü aşağıdakilerden hangisi olabilir?

A



B



C

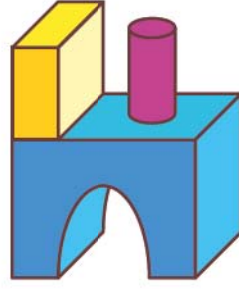


D



ALTIN BEYİN

5.



Yukarıda yapıtaşlarıyla yapılan cismin sağdan görünümü aşağıdakilerden hangisi gibi olabilir?

A



B



C




D



ALTIN BEYİN


6.




Birbirine eş üçgen prizmalar yukarıdaki gibi yan yana konulmuştur.

Bu prizmalara karşı taraftan bakan biri aşağıdaki görüntülerden hangisini görür?

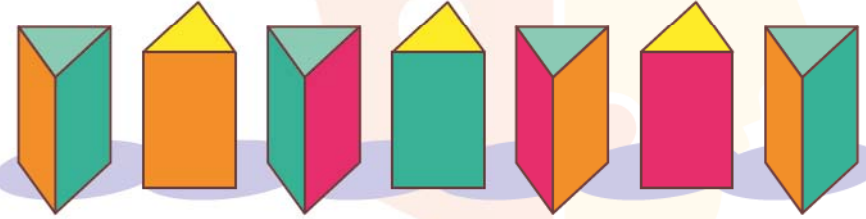
A




B




C



D



7.



Yukarıda küplerle yapılmış yapının üstten görünümü nasıl olur?

A



B



C



D



ALTIN BEYİN

8.



Yukarıdaki pizzanın üstten görünüşü aşağıdakilerden hangisidir?

A



B



C




D



ALTIN BEYİN

9.




Yukarıdaki kare piramitlerin üstten görünümü aşağıdakilerden hangisi gibi olur?

A



B



C



D



ALTIN BEYİN

10.



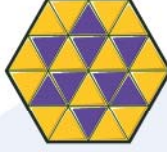
Yukarıda verilen levhalarda beyaz bölgeler şeffaftır.

Bu levhalar köşeleri çakışacak biçimde döndürülmeden üst üste getirilirse aşağıdaki desenlerden hangisi oluşur?

A




B



C




D



ALTIN BEYİN

11.



Yukarıda katlanmış kağıt açıldığında hangi şekil oluşur?

A Üçgen

B Kare

C Dikdörtgen

D Beşgen

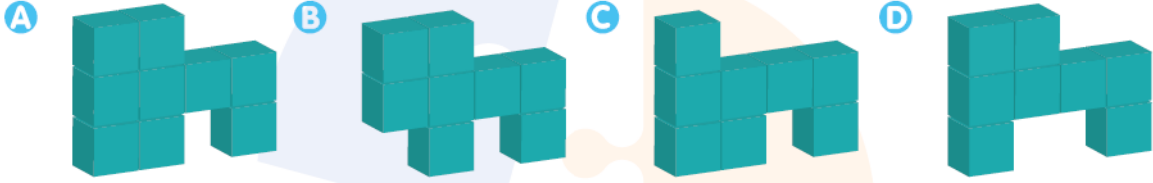


ALTIN BEYİN

12.




Yukarıdaki şekilde boş kısım aşağıdakilerden hangisi ile tam olarak doldurulabilir?



ALTIN BEYİN

13.



Aşağıda verilen şekillerden hangisi yukarıda verilen şeklin bir parçasıdır?

A



B



C




D



ALTIN BEYİN

14.



Bir terzi yukarıda verilen kumaştan aşağıda verilen parçalardan hangisini kesip çıkaramaz? (Kumaştan tek bir kesim yapılacaktır.)

A



B



C

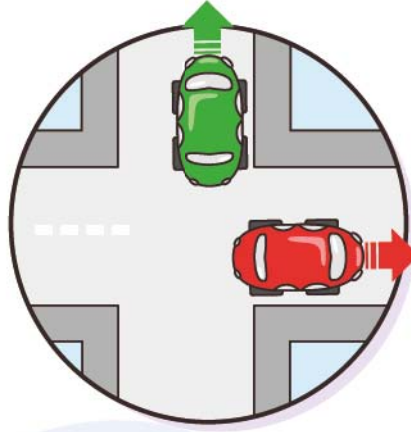


D



ALTIN BEYİN

15.




Yukarıdaki haritada yeşil araba kuzeybatı yönüne doğru gidiyorsa diğer araba hangi yöne doğru gidiyordur?

- A** Güneybatı **B** Güneydoğu **C** Kuzeydoğu **D** Kuzey

ALTIN BEYİN

16.




Yukarıdaki şekilde katlanmış bir kağıdın üstünde duran uğur böcekleri verilmiştir.

Buna göre kaç tane uğur böceği 1 numaralı uğur böceği ile kağıdın aynı tarafında durmaktadır?

- A** 1 **B** 2 **C** 3 **D** 4

ALTIN BEYİN

17.



1. resimdeki eksik yerler 2'den 10'a kadar numaralandırılmış hangi 2 parça ile doğru şekilde doldurulabilir?

A 4-5


B 2-5

C 2-10

D 8-10

ALTIN BEYİN

18.




Yukarıdaki resimde eksik parça aşağıdakilerden hangisi olabilir?




ALTIN BEYİN

19.



Yukarıdaki şekil aşağıdakilerden hangisi ile birleştirilirse kare elde edilir?

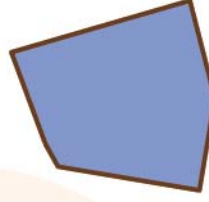
A




B



C

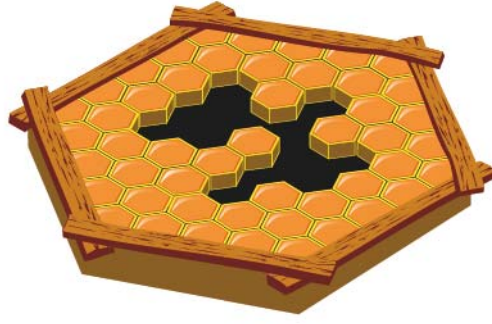


D



ALTIN BEYİN

20.

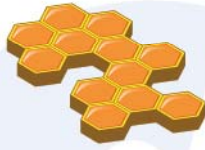


Yukarıda verilen bal peteğinin boş kısmı aşağıdaki parçaların hangisidir?

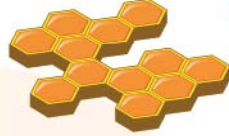
A



B



C



D



ALTIN BEYİN